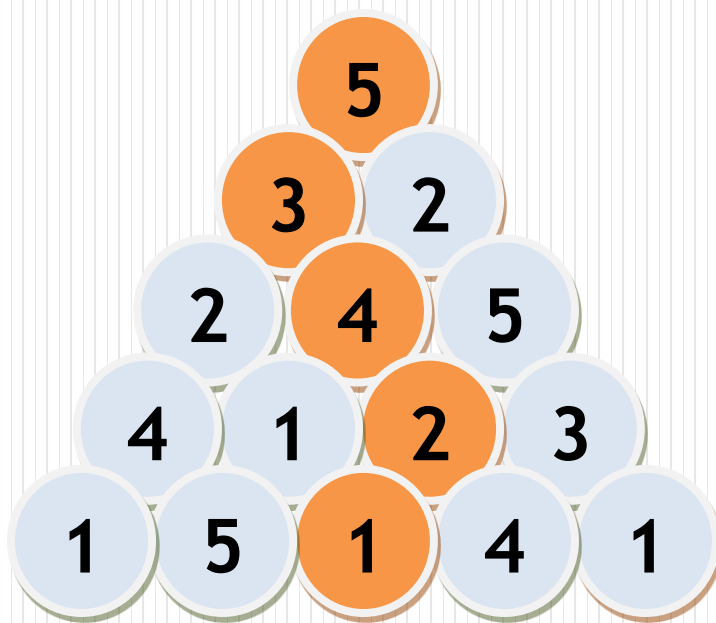


SIHIRLI PİRAMİT



OYUNU TANIYALIM

Sihirli piramit oyunu sayılar arasında ilişki kurabileceğiniz ve ihtimaller dahilinde bir yol çizeceğiniz zevkli bir oyundur.

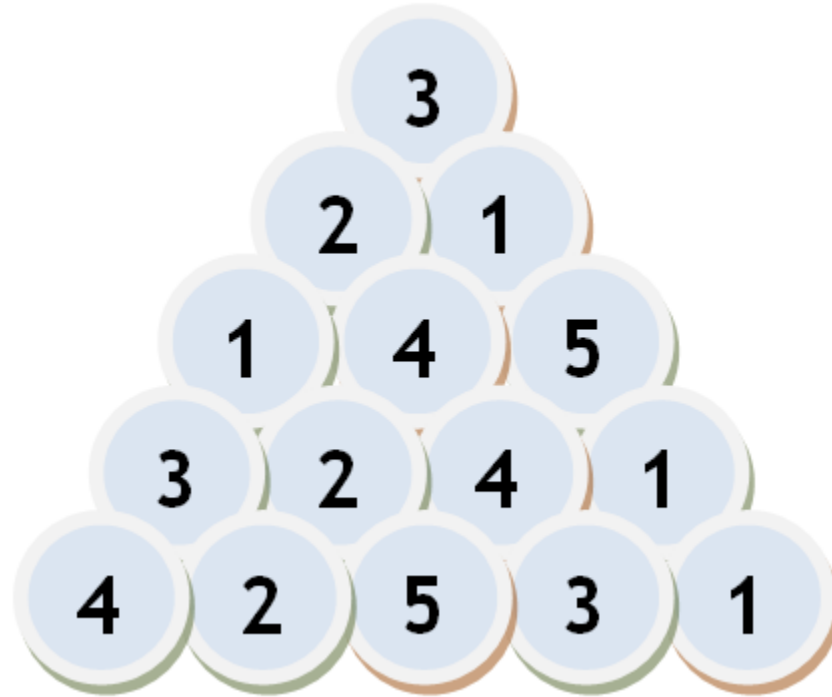
Zorluk derecesini basamak sayısının belirlediği bu oyunda basamak sayısı arttıkça sorular zorlaşmaktadır.

OYUNDAKİ AMACIMIZ

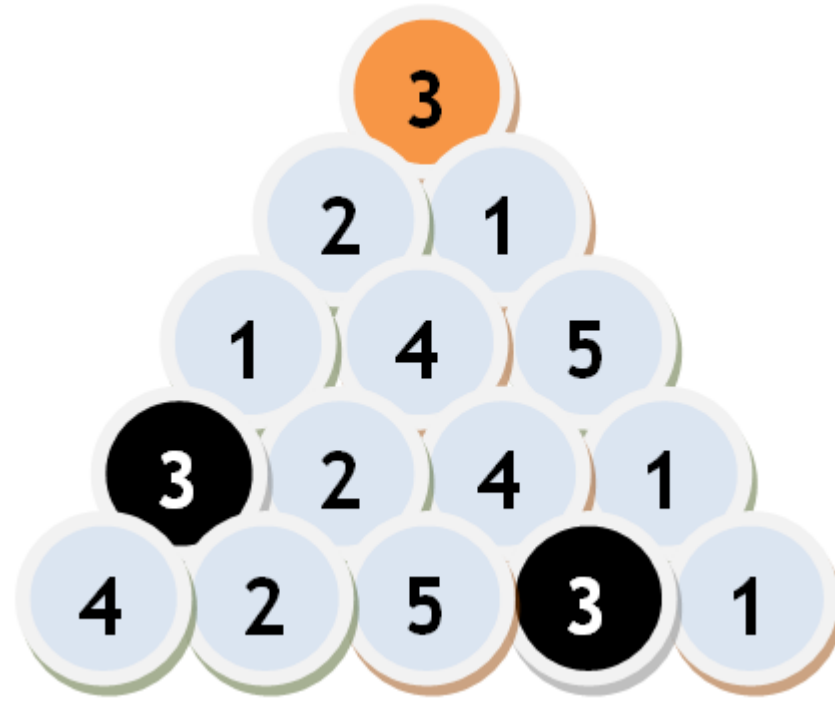
En üstteki sayıdan yani piramitin tepesinden *sayıları birer defa kullanarak* en alttaki sayıya yani piramitin en altına kadar ulaşmaktır.

Piramitin altına ulaştığımızda basamak miktarı kadar rakamı birer defa tekrar etmeden kullanmış olmamız gerekmektedir.

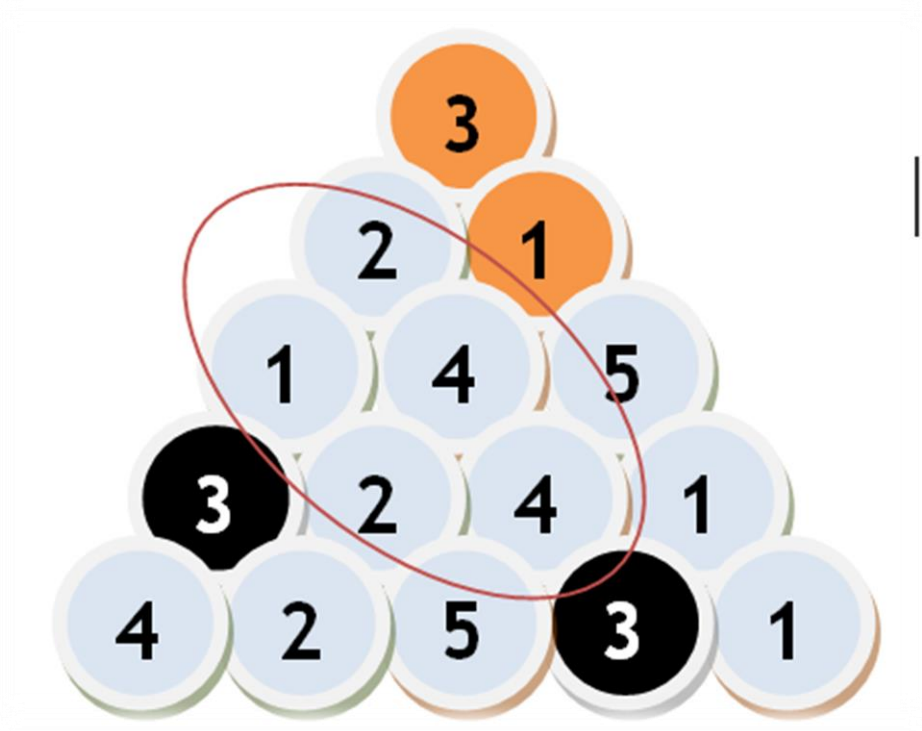
Aşağıdaki soruda üst basamaktan en alt basamağa kadar nasıl ulaşacağımızı soru içerisinde elde edeceğimiz ipuçlarına dikkat ederek bulalım.



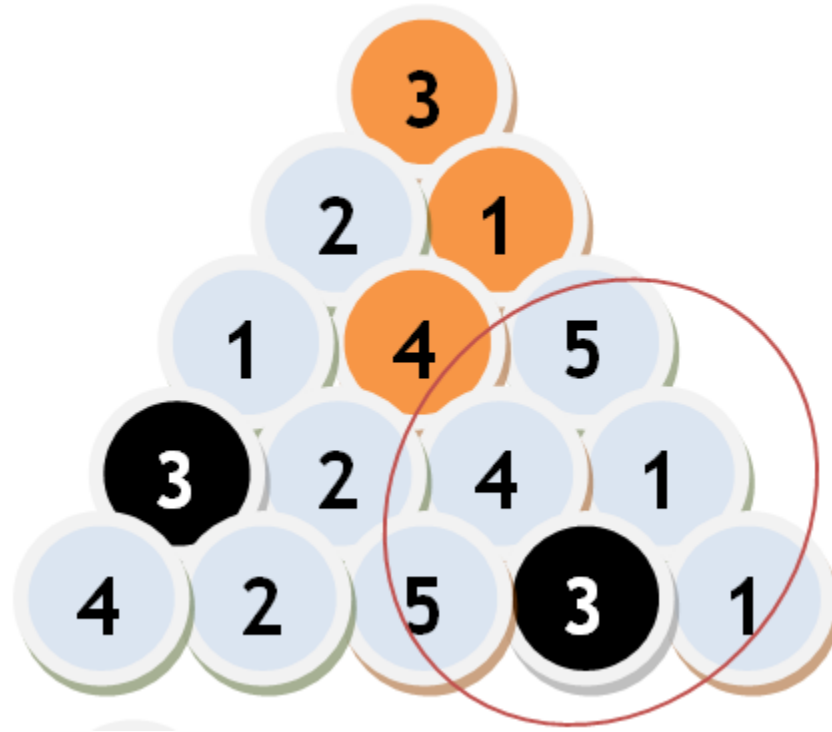
İlk olarak en üst basamakta “3” le başlayacağımız için alt basamaklardaki “3” lerin olduğu yolları kullanmayacağız.



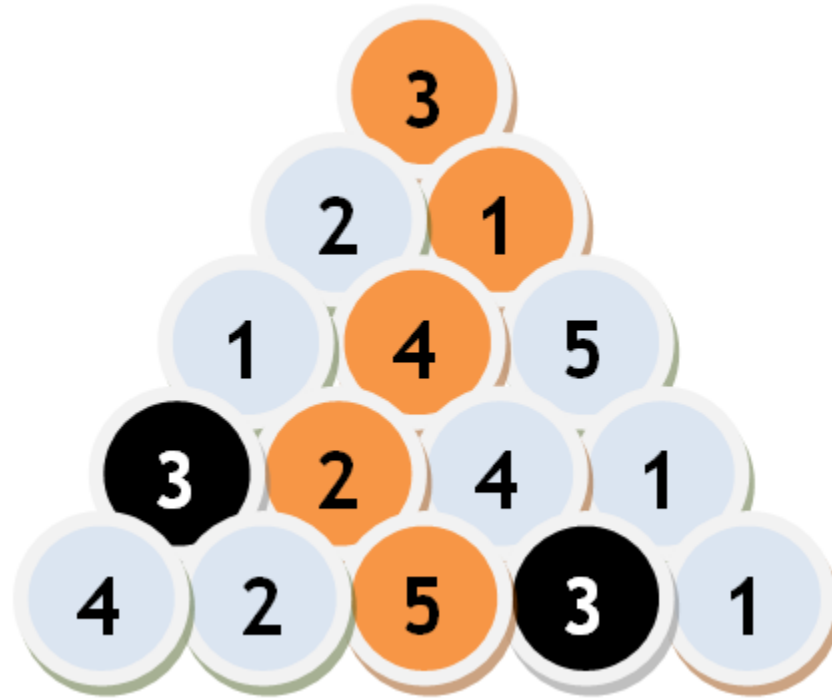
Sol tarafta devam edilirse 2 veya 4 tekrar edeceğinden sağdaki 1 le devam edilmelidir.



5 le devam edildiğinde 5 veya 1 tekrarları bulunduğundan 4 le devam edilmelidir.



Kalan kısımlarda eklendiğinde tüm rakamlar birer kez kullanılarak piramitin tepesinden en alt basamağa inilmiş ve soru doğru cevaplanmıştır.



Aşağıda verilen soruyu öğrendiklerimize göre cevaplayalım.

